

Входяща диагностика по математика – I гр.
на _____ от I клас

① Напиши числата, ако ги знаеш.

10		8				4				0
----	--	---	--	--	--	---	--	--	--	---




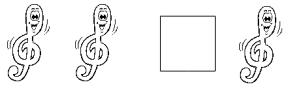
② Оцвети толкова фигури, колкото е написано.

4	□ □ □ □ □
2	○ ○ ○ ○ ○
1	○ ○ ○ ○ ○

③ Довърши редицата.

○	○○	○○○	
---	----	-----	--

④ Постави знак <, > или =.

⑤ Огради еднаквите фигури.

